

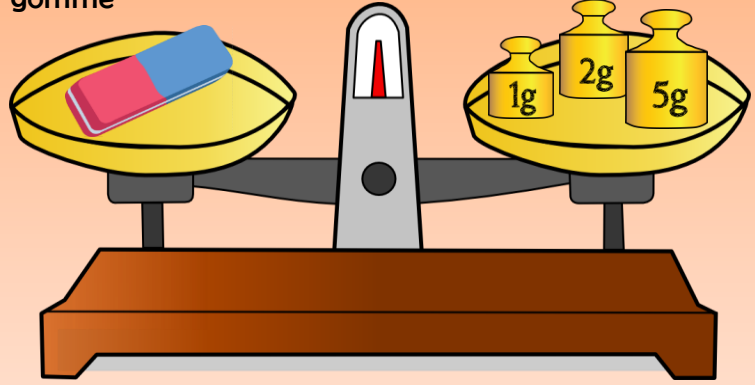
Combien ça pèse ?



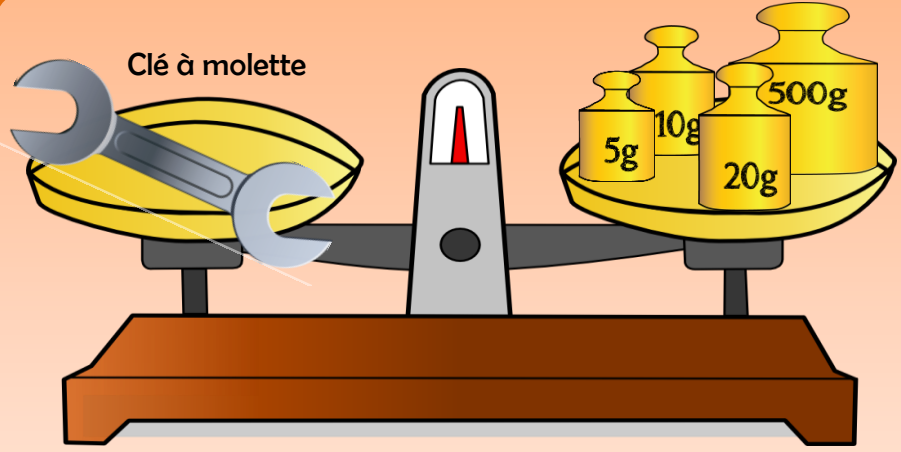
Prénom : _____ date : _____

Combien pèsent-ils ?
Calcule leur poids et donne la réponse en faisant une phrase.

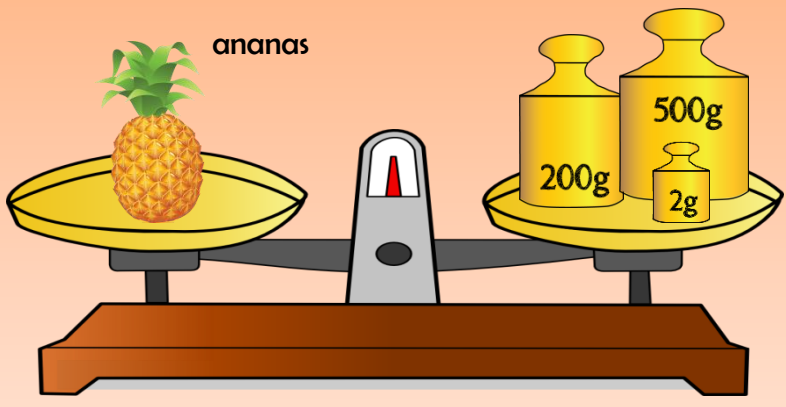
gomme



Clé à molette



ananas



Combien ça pèse ?

Prénom :

date :

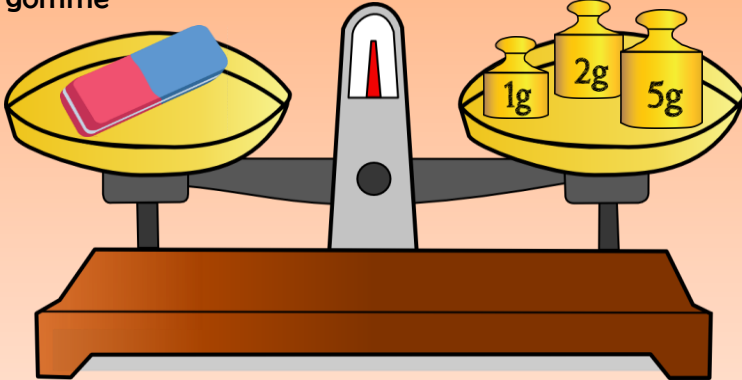


Correction

Combien pèsent-ils ?

Calcule leur poids et donne la réponse en faisant une phrase.

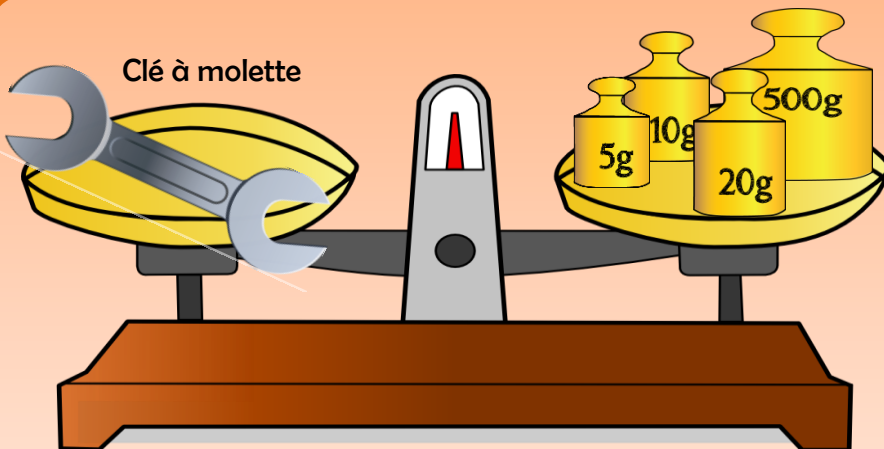
gomme



$$\begin{array}{r} 1 \\ + 2 \\ + 5 \\ \hline 8 \end{array}$$

La gomme pèse 8 grammes.

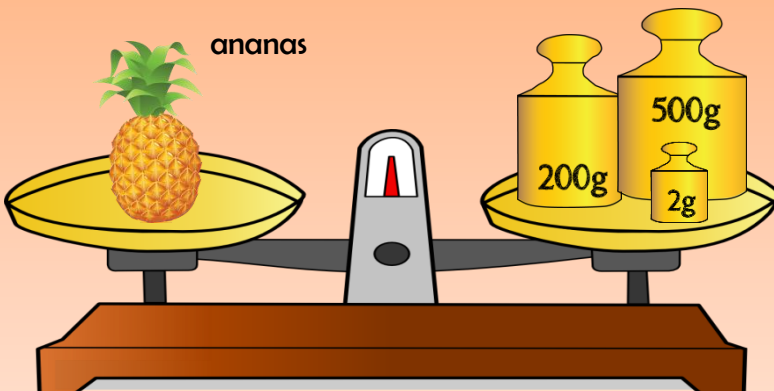
Clé à molette



$$\begin{array}{r} 500 \\ + 20 \\ + 10 \\ + 5 \\ \hline 535 \end{array}$$

La clé à molette pèse 535 grammes.

ananas



$$\begin{array}{r} 500 \\ + 200 \\ + 2 \\ \hline 702 \end{array}$$

L'ananas pèse 702 grammes.