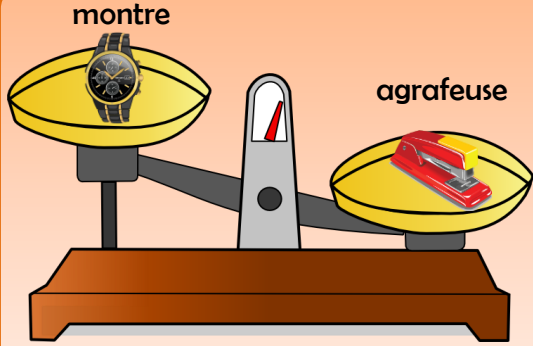


Combien ça pèse ?



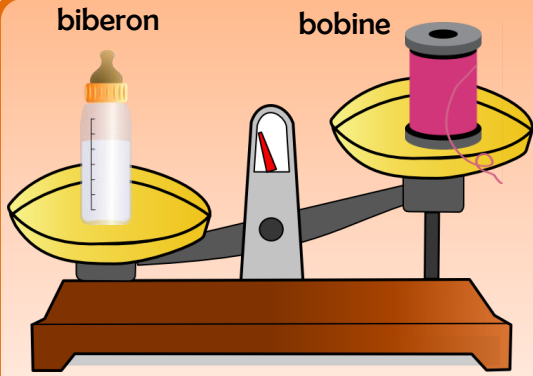
Prénom : _____ date : _____

Réponds aux questions en faisant des phrases.



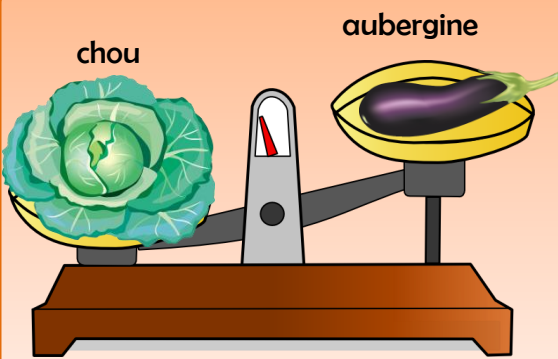
Quel objet est le plus lourd ?

- pèse
- L'agrafeuse pèse 210 g
- La montre pèse 493 g



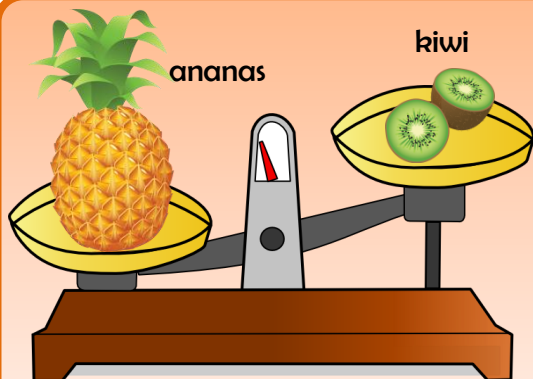
Quel objet est le plus léger ?

- pèse
- Le biberon pèse 24g
- La bobine pèse 421g



Quel aliment est le plus lourd ?

- pèse
- L'aubergine pèse 241g
- Le chou pèse 1756g



Quel fruit est le plus léger ?

- pèse
- L'ananas pèse 102g
- Le kiwi pèse 1200g

Combien ça pèse ?

01

Prénom :

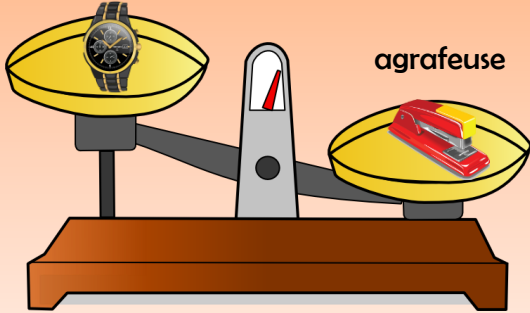
date :



Correction

Réponds aux questions en faisant des phrases.
Relie les objets aux poids qui leur correspondent.

montre



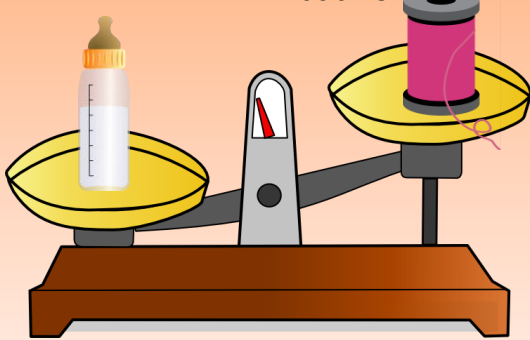
agrafeuse

Quel objet est le plus lourd ?

L'agrafeuse est plus lourde que la montre.

L'agrafeuse		210 g
La montre		493 g

biberon



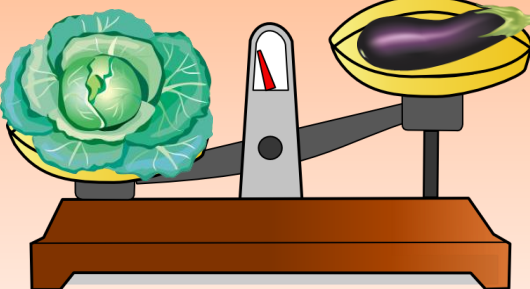
bobine

Quel objet est le plus léger ?

La bobine est plus légère que le biberon.

Le biberon		421g
La bobine		24g

chou



aubergine

Quel aliment est le plus lourd ?


Le chou est plus lourd que l'aubergine.

L'aubergine		1756g
Le chou		241g



ananas

kiwi



Quel fruit est le plus léger ?

Le kiwi est plus léger que l'ananas.

L'ananas		1200g
Le kiwi		102g