


Comparaison de quantités



Prénom :


date :

Fiche n°1

1 Consigne: Classe ces personnages du plus vieux au plus jeune.



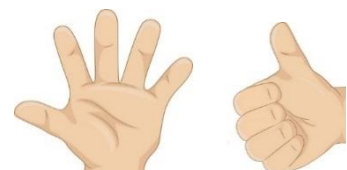
2 Consigne: Colorie le chiffre qui correspond aux nombres de doigts donnés.



4	8	3
---	---	---



7	5	2
---	---	---




9	8	6
---	---	---

3 Consigne: Numérote ces coccinelles de la plus petite à la plus grande.



Comparaison de quantités



Fiche n°1

Correction

1 Consigne: Classe ces personnages du plus vieux au plus jeune.



1



4




2



3

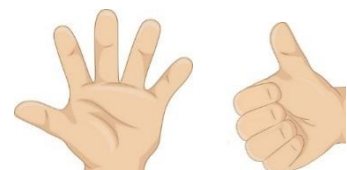
2 Consigne: Colorie le chiffre qui correspond aux nombres de doigts donnés.



4 8 3



7 5 2




9 8 6

3 Consigne: Numérote ces coccinelles de la plus petite à la plus grande.



3



2



4



1



5