




Géométrie

Propriétés géométriques



Prénom :


date :

Consigne: Trouve le nom des figures qui possèdent ces propriétés puis trace-les.

J'ai seulement deux côtés opposés parallèles.


? Je suis un quadrilatère.

? Je suis :




J'ai deux côtés opposés égaux et quatre angles droits.

? Je suis :




Je suis un parallélogramme possédant deux côtés consécutifs de même longueur.

? Je suis :




Je suis un polygone à cinq sommets et cinq côtés.

? Je suis :




Je suis un losange avec un angle droit.


? Je suis :



Je suis un polygone possédant six côtés.

? Je suis :



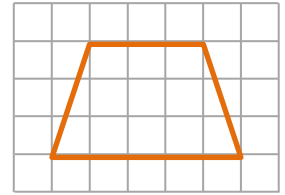


Consigne: Trouve le nom des figures qui possèdent ces propriétés puis trace-les.

J'ai seulement deux côtés opposés parallèles.

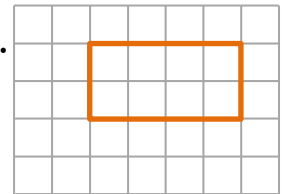
? Je suis un quadrilatère.

? Je suis : *un trapèze* .



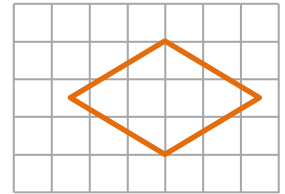
J'ai deux côtés opposés égaux et quatre angles droits.

? Je suis : *un rectangle* .



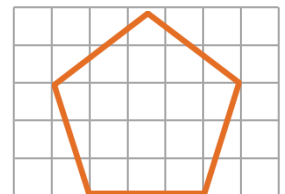
Je suis un parallélogramme possédant deux côtés consécutifs de même longueur.

? Je suis : *un losange* .



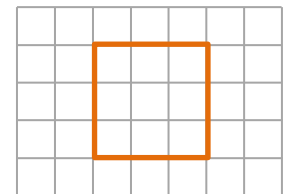
Je suis un polygone à cinq sommets et cinq côtés.

? Je suis : *un pentagone* .



Je suis un losange avec un angle droit.

? Je suis : *un carré* .



Je suis un polygone possédant six côtés.

? Je suis : *un hexagone* .

