




Prénom :

date :

Consigne: Trouve le nom des figures qui possèdent ces propriétés puis trace-les.


Je n'ai aucun côté. Il te faut un compas.

? Je suis : .....




J'ai trois côtés.

? Je suis : .....




Je suis un quadrilatère possédant deux côtés opposés parallèles.

? Je suis : .....




J'ai quatre côtés égaux et quatre angles droits.

? Je suis : .....




Je serais un carré si mes côtés adjacents étaient égaux.

? Je suis : .....



Je suis un polygone possédant huit côtés.

? Je suis : .....

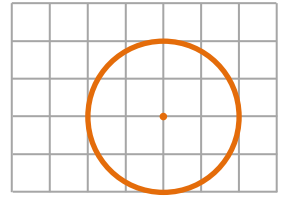




Consigne: Trouve le nom des figures qui possèdent ces propriétés puis trace-les.

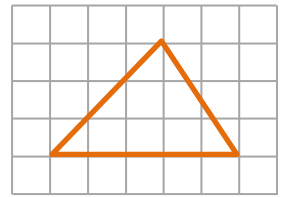
Je n'ai aucun côté. Il te faut un compas.

? Je suis : *un cercle* .



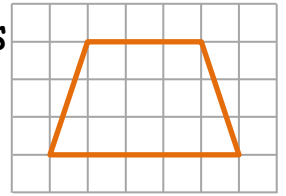
J'ai trois côtés.

? Je suis : *un triangle* .



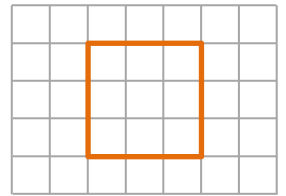
Je suis un quadrilatère possédant deux côtés opposés parallèles.

? Je suis : *un trapèze* .



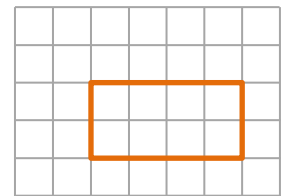
J'ai quatre côtés égaux et quatre angles droits.

? Je suis : *un carré* .



Je serais un carré si mes côtés adjacents étaient égaux.

? Je suis : *un rectangle* .



Je suis un polygone possédant huit côtés.

? Je suis : *un octogone* .

