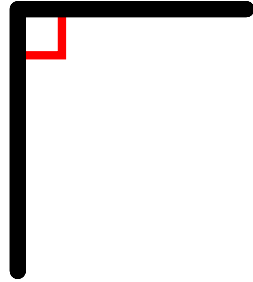
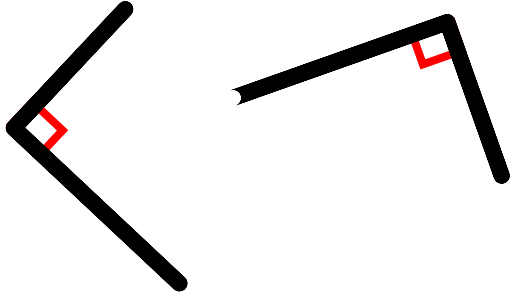


Les angles droits



A retenir

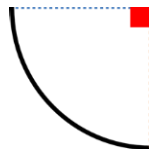
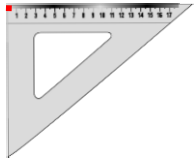
Un angle droit mesure 90° .



On trace un petit symbole **L** pour préciser qu'il s'agit d'un angle droit.

Un angle droit ou non ?

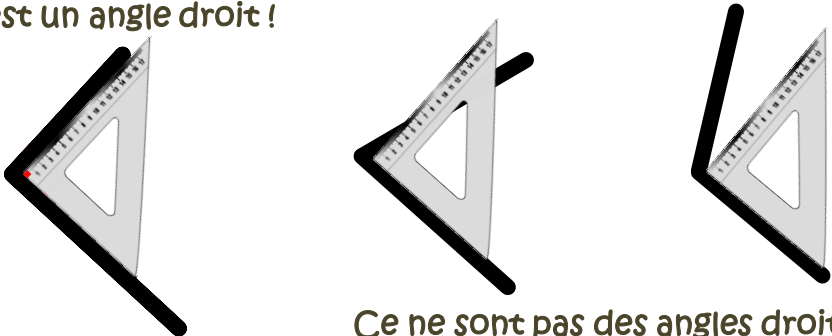
Utilise une équerre ou un gabarit



(cf: fiche gabarit)

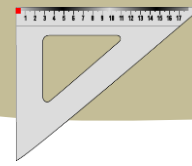
Place l'équerre ou le gabarit pour savoir s'il s'agit d'un angle droit.

C'est un angle droit !



Ce ne sont pas des angles droits !

<http://www.logicieleducatif.fr>

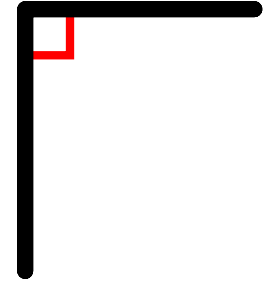
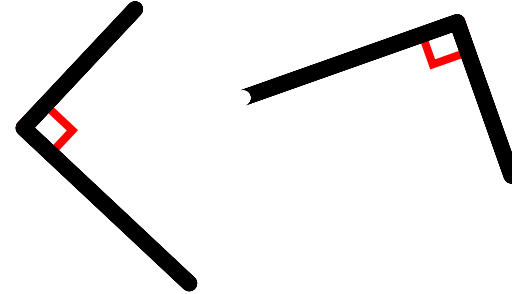


Les angles droits



A retenir

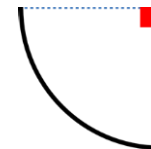
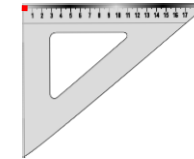
Un angle droit mesure 90° .



On trace un petit symbole **L** pour préciser qu'il s'agit d'un angle droit.

Un angle droit ou non ?


Utilise une équerre ou un gabarit



(cf: fiche gabarit)

Place l'équerre ou le gabarit pour savoir s'il s'agit d'un angle droit.

C'est un angle droit !



Ce ne sont pas des angles droits !

<http://www.logicieleducatif.fr>