


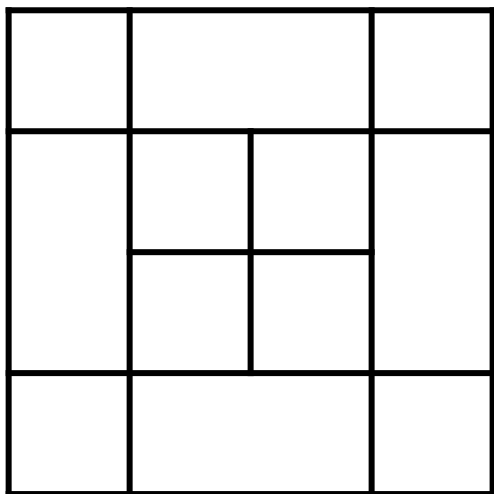
# COMBIEN Y'A-T-IL DE CARRÉS ?

3

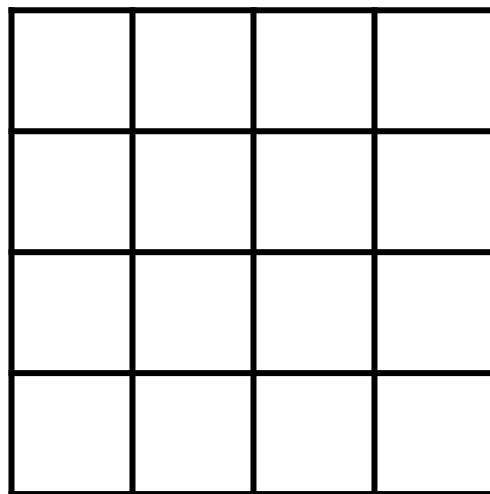
2  Compte et écris le nombre de carrés pour chaque figure.  
Pour t'aider à les compter tu peux les tracer en couleur ou les colorier.

Prénom :


date :



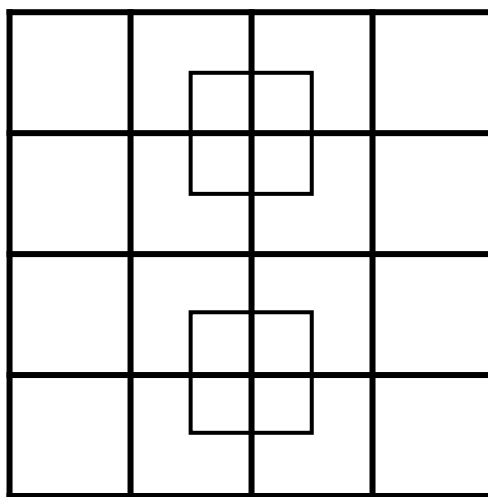
Il y a ..... carrés.



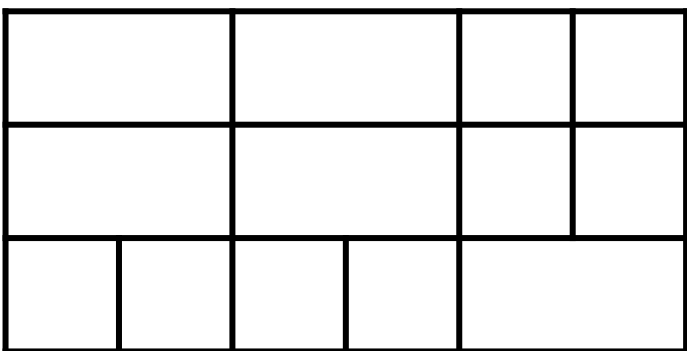
Il y a ..... carrés.



Il y a ..... carrés.



Il y a ..... carrés.



Il y a ..... carrés.



# COMBIEN Y'A-T-IL DE CARRÉS ?

Correction



2 Compte et écris le nombre de carrés pour chaque figure.  
Pour t'aider à les compter tu peux les tracer en couleur ou les colorier.

Il y a 18 carrés.

1	2	3	4
5	6	7	8
9	10	11	12
13	14	15	16

Il y a 30 carrés.

<https://www.logicieleducatif.fr>

Il y a 13 carrés.

4			
5	6		
7	8	9	
10	11	12	13

12	13
14	15
16	17
18	19

Il y a 40 carrés.

Il y a 14 carrés.

25	26	27	28
29	30	31	32
33	34	35	36
37	38	39	40